

**ATIVIDADES ROTINA -21 à 25 de SETEMBRO (2º ANOS)**  
**SEGUNDA-FEIRA (21/09/20)**

EMAI (LIVRO CAPA AZUL – VOLUME 1) - MATEMÁTICA – Sequência 10 – Tampinhas, festa e animais – ATIVIDADE 10.2 página 61.

**ATIVIDADE 10.2**

1. JOÃO FAZ 8 ANOS HOJE E DONA NAIR, SUA AVÓ, ORGANIZOU UMA FESTA PARA COMEMORAR SEU ANIVERSÁRIO.

A. EM QUE DIA JOÃO NASCEU?  
21 DE SETEMBRO DE 2012


B. JOÃO É MAIS VELHO OU MAIS NOVO QUE VOCÊ?  
RESPOSTA PESSOAL

2. AGORA, LEIA E RESOLVA:

A. DONA NAIR COLOCOU EM UMA BANDEJA 50 BRIGADEIROS E 40 BEIJINHOS PARA SERVIR AOS AMIGOS. QUANTOS DOCES FORAM COLOCADOS NA BANDEJA?

$$\begin{array}{r} 50 \\ + 40 \\ \hline 90 \end{array}$$

R: FORAM COLOCADOS 90 DOCES NA BANDEJA



B. DONA NAIR PREPAROU 38 CACHORROS-QUENTES. EM 8 DELES COLOCOU MOSTARDA E NOS DEMAIS, NÃO. QUANTOS SÃO OS CACHORROS-QUENTES SEM MOSTARDA?

$$\begin{array}{r} 38 \\ - 8 \\ \hline 30 \end{array}$$

R: SÃO 30 CACHORROS-QUENTES SEM MOSTARDA.




Foto: IMESP

61

LER E ESCREVER (LIVRO CAPA AZUL – VOLUME 1) - PORTUGUÊS – Atividade 4A – Ditado interativo, exercício 1 página 213.

**RESPOSTA PESSOAL CONFORME ESCRITA DO ALUNO.**

**TERÇA-FEIRA (22/09/2020)**

LER E ESCREVER (LIVRO CAPA AZUL – VOLUME 1) - PORTUGUÊS – Atividade 4A – Ditado interativo, página 213.(continuação)

Veja abaixo a cantiga “Pirulito que bate, bate” e circule no seu texto as palavras que você errou.

**RESPOSTA PESSOAL**

**PIRULITO QUE BATE-BATE**


**PIRULITO QUE BATE-BATE  
PIRULITO QUE JÁ BATEU  
QUEM GOSTA DE MIM É ELA  
QUEM GOSTA DELA SOU EU**

EMAI (LIVRO CAPA AZUL – VOLUME 1) - MATEMÁTICA – Sequência 10 – Tampinhas, festa e animais – ATIVIDADE 10.3 - página 62.

**ATIVIDADE 10.3**


1 JOÃO GANHOU UM AQUÁRIO DE PRESENTE.

A. NO AQUÁRIO HAVIA 26 PEIXES AZUIS E 12 AMARELOS. QUAL O TOTAL DE PEIXES NO AQUÁRIO?



$$\begin{array}{r} \text{DU} \\ 26 \\ + 12 \\ \hline 38 \end{array}$$
 R: O TOTAL DE PEIXES SÃO 38.

B. DOS 26 PEIXES AZUIS, 11 ERAM BEM PEQUENOS E OS OUTROS, MAIORES. QUANTOS PEIXES AZUIS DOS MAIORES JOÃO GANHOU?



$$\begin{array}{r} \text{DU} \\ 26 \\ - 11 \\ \hline 15 \end{array}$$
 R: JOÃO GANHOU 15 PEIXES AZUIS DOS MAIORES.

Arte: IMESP

**62** EDUCAÇÃO MATEMÁTICA NOS ANOS INICIAIS DO ENSINO FUNDAMENTAL – EMAI

ATIVIDADE 10.4

1 RESPONDA AS QUESTÕES:

- A. ATÉ QUE NÚMERO VOCÊ JÁ SABE CONTAR? RESPOSTA PESSOAL  
 B. VOCÊ CONHECE OS NÚMEROS ESCRITOS A SEGUIR? RESPOSTA PESSOAL  
 C. LEIA CADA UM DELES:

100	CEM
200	DUZENTOS
300	TREZENTOS
400	QUATROCENTOS
500	QUINHENTOS
600	SEISCENTOS
700	SETECENTOS
800	OITOCENTOS
900	NOVECENTOS
1000	MIL

D. QUAL É O MAIOR NÚMERO ESCRITO NAS CARTELAS ABAIXO? CIRCULE-O.

123

132

142

159

160

155

E. ESSE NÚMERO É MAIOR OU MENOR QUE 200?

MENOR

ESCREVA AS PALAVRAS QUE VOCÊ CIRCULOU NO DIA ANTERIOR, CONSULTANDO A ORTOGRAFIA CORRETA CONFORME A CANTIGA ABAIXO.

### PIRULITO QUE BATE-BATE

PIRULITO QUE BATE-BATE  
PIRULITO QUE JÁ BATEU  
QUEM GOSTA DE MIM É ELA  
QUEM GOSTA DELA SOU EU

### QUINTA-FEIRA (24/09/2020)

Caderno de casa (copiar)

Organize as palavras abaixo e forme as frases adequadamente.

- a) COMPREI UMA BOLA AZUL.
- b) GANHEI UMA LINDA BONECA.
- c) EU AMO ESTUDAR.
- d) O CACHORRO FOI ATROPELADO.

### SEXTA-FEIRA (25/09/2020)

Caderno de casa (copiar)

Escreva de 10 em 10 até 500.

Números Contados de 10 em 10 do 10 até 500.				
10	20	30	40	50
60	70	80	90	100
110	120	130	140	150
160	170	180	190	200
210	220	230	240	250
260	270	280	290	300
310	320	330	340	350
360	370	380	390	400
410	420	430	440	450
460	470	480	490	500